


USO DEL RIGHELLO

A) PRENDI IL TUO RIGHELLO E ALLINEA LO ZERO CON QUELLO RIPORTATO SULLE LINEE SOTTO. DOPO

1. riporta sulla linea con precisione i decimetri



2. riporta sulla linea con precisione i centimetri e metti i numeri così come sono sul tuo righello

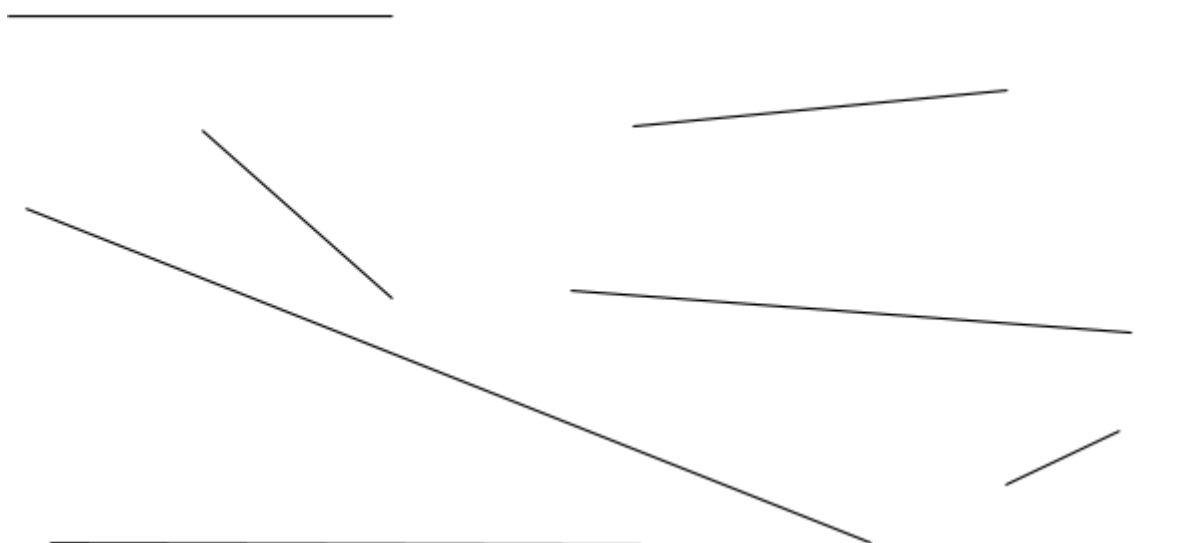


3. riporta con precisione i centimetri e i mezzi centimetri e metti i numeri così come sono sul tuo righello



FAI ATTENZIONE A NON SPOSTARE O MUOVERE IL RIGHELLO DURANTE L'ESERCIZIO.

B) ALLINEA LO ZERO DEL TUO RIGHELLO CON UN ESTREMO DELLE LINEE SOTTO RIPORTATE. MISURA LA LUNGHEZZA DELLE LINEE RIPORTANDO ACCANTO PRIMA IL RISULTATO IN CM POI IN MM.

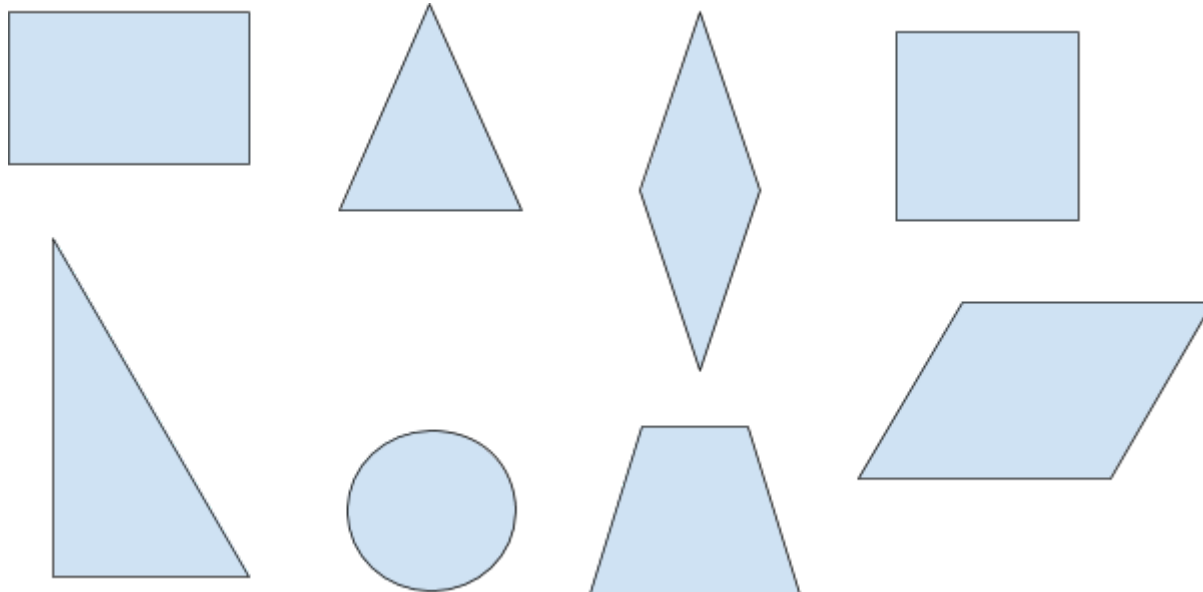


ENTI GEOMETRICI

FORME

CON L'AIUTO DEL LIBRO DI GEOMETRIA DELLE ELEMENTARI:

1. CERCA DI RICONOSCERE LE FIGURE SOTTO RIPORTATE E SCRIVI IL LORO NOME SOTTO O DENTRO DI LORO.



2. DAI UN NOME AI VERTICI (DI SOLITO LETTERE MAIUSCOLE COME A, B, C, D, E, F ECC);

3. TRACCIA LE DIAGONALI LÀ DOVE POSSIBILE.

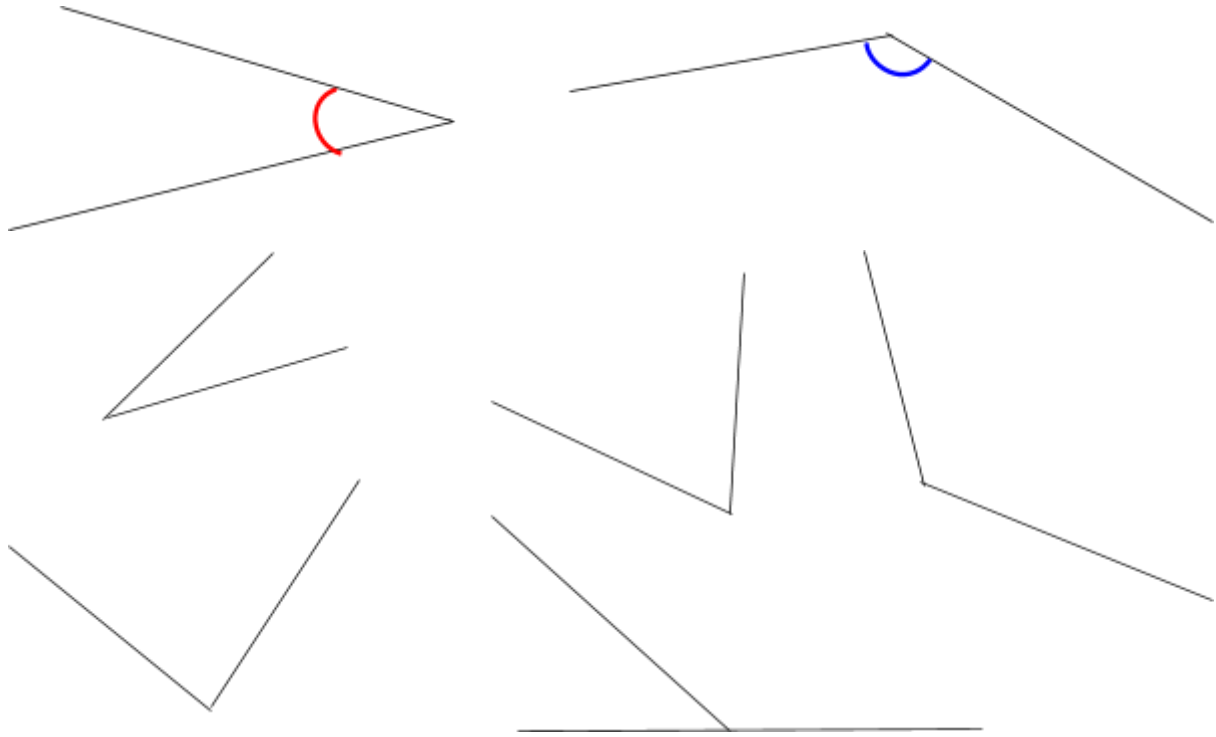
PER QUATTRO FIGURE A TUA SCELTA SCRIVI IL NOME DI TUTTI I SEGMENTI (\overline{AB} O \overline{CD} ECC) E SPECIFICA PER OGNUNO

- SE È ORIZZONTALE (DISPOSTO COME L'ORIZZONTE), VERTICALE (DAL BASSO VERSO L'ALTO E VICEVERSA) OPPURE OBLIQUO;
- SE CI SONO SEGMENTI A LUI PARALLELI, ORTOGONALI OPPURE CONGRUENTI.

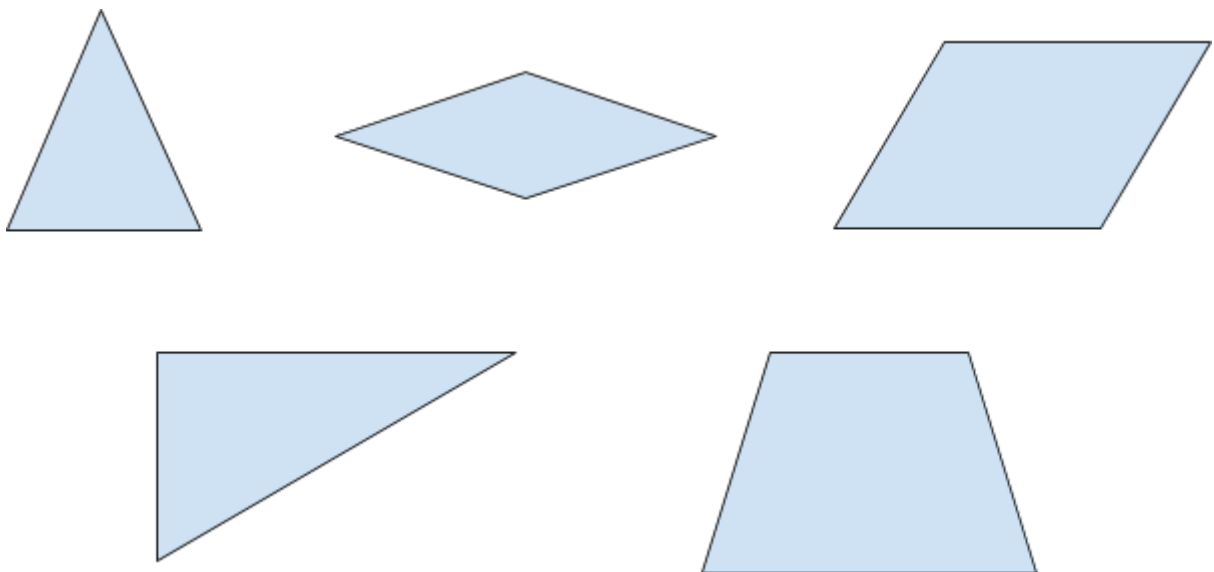
ANGOLI

CON L'AIUTO DEL LIBRO DI GEOMETRIA DELLE ELEMENTARI:

1. OSSERVA I SEGMENTI SOTTO RIPORTATI E EVIDENZIA DI ROSSO GLI ANGOLI ACUTI (MINORI DI 90°), DI BLU QUELLI OTTUSI (MAGGIORI DI 90°), COME NEGLI ESEMPI QUI RIPORTATI:



2. OSSERVA LE FIGURE PIANE RIPORTATE SOTTO E DETERMINA CON IL ROSSO GLI ANGOLI AI VERTICI ACUTI E COL BLU QUELLI OTTUSI.



SEQUENZE

1. PENSA ALLA COLAZIONE DEL MATTINO E METTI IN ORDINE LA SEQUENZA DI AZIONI DI SEGUITO RIPORTATE IN DISORDINE. PER FARLO DOVRAI NUMERARE LE AZIONI IN MODO CRONOLOGICO, SCRIVERAI 1 ALLA PRIMA AZIONE, 2 ALLA SUCCESSIVA E COSÌ VIA...

Azioni	
SCALDARE IL PENTOLINO AI FORNELLI DELLA CUCINA	
BERE IL LATTE CALDO (CON SODDISFAZIONE!)	
PRENDERE IL LATTE FREDDO DAL FRIGORIFERO	
VERSARE IL LATTE FREDDO IN UN PENTOLINO	
VERSARE IL LATTE CALDO DENTRO LA TAZZA	

2. PENSA A UNA PARTITA SPORTIVA DI TENNIS E METTI IN ORDINE LA SEQUENZA DI AZIONI DI SEGUITO RIPORTATE IN DISORDINE. PER FARLO DOVRAI NUMERARE LE AZIONI IN MODO CRONOLOGICO, SCRIVERAI 1 ALLA PRIMA AZIONE, 2 ALLA SUCCESSIVA E COSÌ VIA...

Azioni	
RECARSI AL CAMPO DA GIOCO	
GIOCARE A TENNIS	
PREPARARE LA BORSA CON IL NECESSARIO PER LA PARTITA	
ENTRARE IN CAMPO	
TORNARE A CASA (CONTENTI DI AVER GIOCATO!)	

3. PENSA A UN'ATTIVITÀ TUA GIORNALIERA (ES L'USCITA DA SCUOLA, L'INGRESSO A SCUOLA, LA MERENDA A SCUOLA ECC) E PROVA A METTERE IN ORDINE CINQUE AZIONI CHE FAI IN QUELL'OCCASIONE.

